

Eva-Maria Schmidt

1./2.
Klasse



Sterne und Planeten



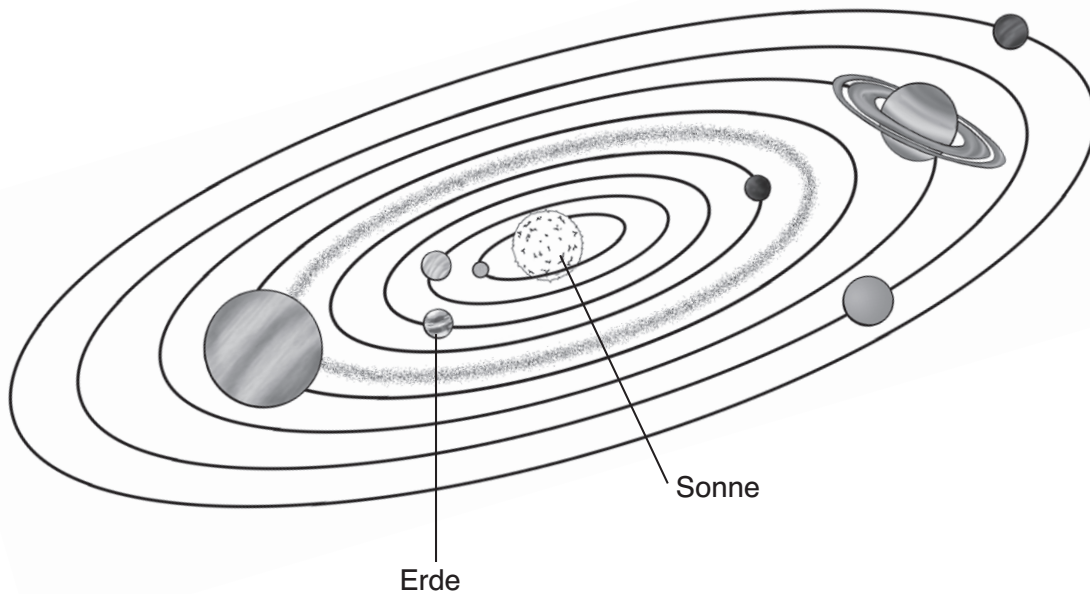
BVK
digital

A graphic element consisting of white lines and dots that resemble a circuit board or digital data paths, located at the bottom of the 'digital' text.

Die Sonne








In unserem Sonnensystem gibt es unsere Sonne und acht Planeten. Sie heißen: Merkur, Venus, Erde, Mars, Jupiter, Saturn, Uranus und Neptun.



In unserem Sonnensystem gibt es unsere _____ und acht _____. Sie heißen: Merkur, Venus, _____, Mars, Jupiter, Saturn, Uranus und _____.

Aufgaben

1.  Lies den Text.
2.  Schau dir das Bild genau an.  Besprich mit einem  Mitschüler, was ihr alles auf dem Bild erkennen könnt.
3. Zähle die Anzahl der Planeten auf dem Bild.
4.  Schreibe nun die fehlenden Wörter in den Lückentext.



Planeten-Suchsel

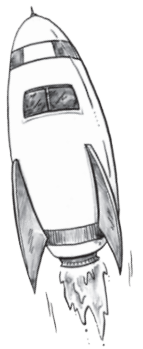


Unsere Sonne wird von acht großen Planeten umkreist. Einer von ihnen ist unsere Erde. Der kleinste Planet ist der Sonne am nächsten. Er heißt Merkur. Unseren Nachbarplaneten Venus können wir hell am Sternenhimmel sehen. Ein anderer Nachbarplanet ist der Mars. Die Planeten Jupiter, Saturn, Uranus und Neptun sind Gasplaneten.

X	M	E	R	K	U	R	H	J
M	W	C	P	Z	P	Z	F	U
A	P	E	R	D	E	W	D	P
R	L	H	G	W	Q	B	V	I
S	Q	U	R	A	N	U	S	T
L	I	Y	S	F	C	D	Q	E
S	A	T	U	R	N	K	Z	R
P	V	B	C	S	F	N	T	Y
N	E	P	T	U	N	G	U	J

Aufgaben

1. Lies den Text.
2. Im Text werden die Namen von acht Planeten genannt.
 Unterstreiche sie.
3. Im Suchsel haben sich die Namen von sieben Planeten unseres Sonnensystems versteckt. Findest du sie? Markiere sie bunt.
4. Welcher Planet fehlt im Suchsel? Schreibe auf.



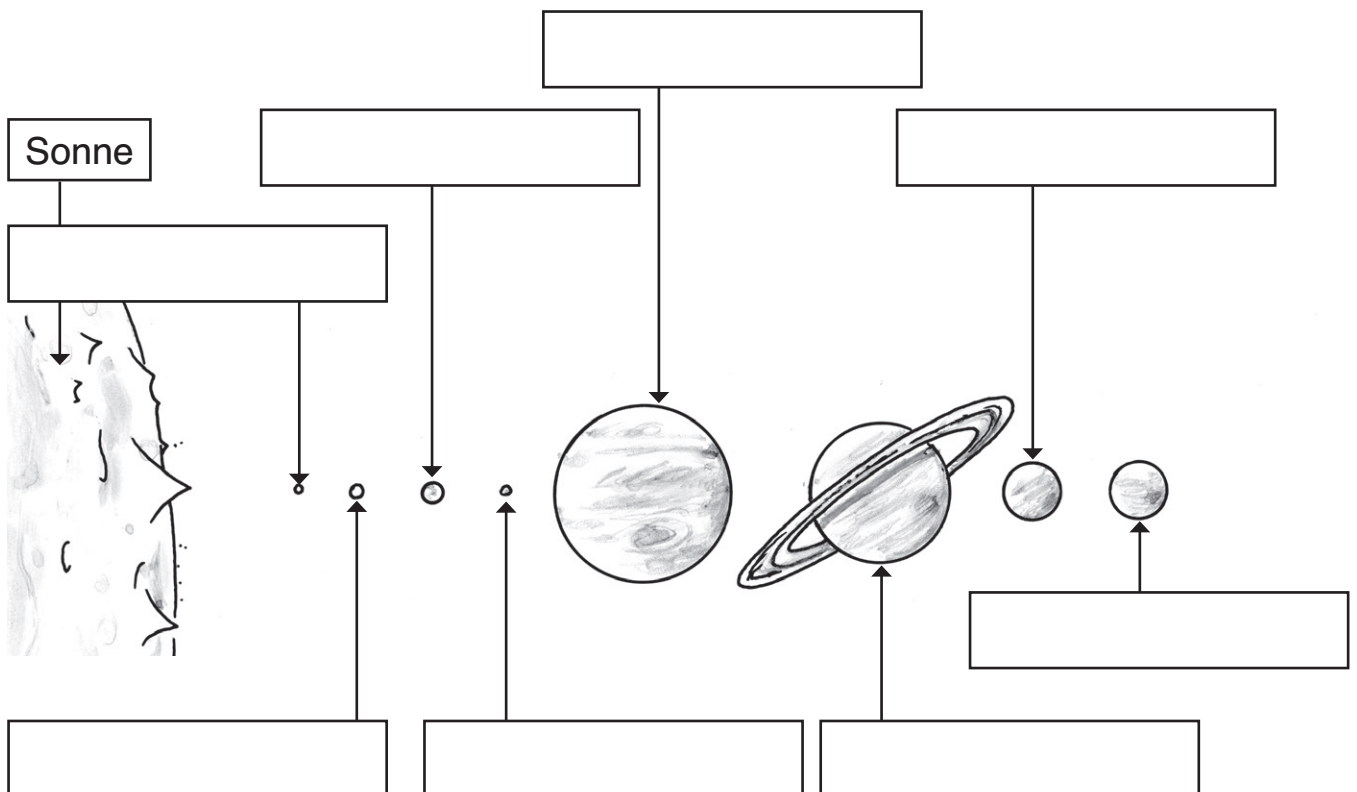
Die Planeten (1)



In der Mitte unseres Sonnensystems ist unsere Sonne. Sie wird umkreist von acht Planeten.

1. Der **Merkur** ist der kleinste Planet.
2. Die **Venus** ist als Morgen- und Abendstern hell am Himmel zu sehen. Sie ist durch ihre dichte Atmosphäre der heißeste Planet.
3. Unsere **Erde** wird der *Blaue Planet* genannt, weil der größte Teil der Oberfläche mit Wasser bedeckt ist.
4. Der **Mars** wird auch als *Roter Planet* bezeichnet, weil seine Oberfläche mit rotem Staub bedeckt ist.
5. Der **Jupiter** ist der größte der Planeten. Er ist umgeben von dunklen Wolkenbändern.
6. Der **Saturn** ist umgeben von Ringen aus Eis- und Gesteinsbrocken.
7. Der **Uranus** erscheint durch seine Gashülle blau.
8. Der **Neptun** ist der äußerste Planet unseres Sonnensystems.

Unser Sonnensystem:



Name: _____

Datum: _____


Die Planeten (2)



Mit diesem Satz kannst du dir die Reihenfolge der acht Planeten unseres Sonnensystems merken:

MEIN VATER ERKLÄRT MIR JEDEN SONNTAG UNSEREN NACHTHIMMEL.

E	___	___	___	___	___	___
R	___	___	___	___	___	___
K	___	___	___	___	___	___
U	___		___	___	___	___
R			___	___	___	___



Aufgaben

- Lies den Text.
- Schreibe die Namen der Planeten in die Kästen.
- Male die Planeten in den Farben an, wie sie im Text beschrieben sind. Wenn keine Farbe angegeben ist, darfst du dir eine aussuchen.
- Lies dir den Merksatz mehrmals durch, damit du ihn dir einprägst.
- Erweitere die Anfangsbuchstaben des Merksatzes.
 Trage die Planeten dort ein.

